

经许可复制

著作权人姓名：卢明

加班是否一定能增收

上海市进才中学 卢明

一. 实际问题

当一个工厂完不成生产任务时，一般想到的解决办法总是“加班”，大家都觉得加班能增加产量，也就等于增加收入。但是，用精确的数学计算，你会得到意料之外的结论。请看下面的例子：

一位生产玻璃杯的个体经营者有两副生产模具，一副生产果汁杯，另一副生产鸡尾酒杯，具体工作情况如下表：

品 种	工 效	储 藏 量	定点量	收 益
果 汁 杯	6 小时/百件	10 m ³ /百件	600 件	600 元/百件
鸡尾酒杯	5 小时/百件	20 m ³ /百件	无	400 元/百件

若每周工作 50 小时，且拥有储藏量为 140 m³ 的仓库，问：该个体经营者应如何安排计划方可使每周收益最大？

二. 相关知识

这是一个求“最佳效益”的问题，数学中“线性规划”的知识可以帮助我们解决这个问题。

在线性规划问题中，有一个求“最佳解”的函数和一些一次不等式；这个函数称为目标函数，它可以用来描述某种产品的利润或价值；这些一次不等式称为约束条件，可以用来表示生产中各生产要素的取值范围。

我们可以把不等式组的解表示为一个多边形区域，并称这个区域为“可行解”区域，它包含了目标函数允许取的所有的点。如果目标函数在可行解区域内某点处取得最佳解，这个解一定是多边形的顶点，这个点就是此线性规划问题的解。

三. 解决过程

1. **确定目标函数**: 设该经营者每周生产果汁杯 x (百件), 鸡尾酒杯 y (百件), 则此问题的目标函数是_____。 $f = 600x + 400y$

2. **确定可行解区域**: 该经营者生产果汁杯和鸡尾酒杯的总的工作时间不超过 50 小时; 两种产品的储藏量不超过 $140m^3$; 果汁杯的生产量不超过 600 件。根据这些

信息, 此问题的约束条件是_____。

$$\begin{cases} 6x + 5y \leq 50 \\ 10x + 20y \leq 140 \\ x \leq 6 \\ x, y \geq 0 \end{cases}$$

3. **等价变形**: 从上述约束条件中解出 y , 得_____。

$$\begin{cases} y \leq -\frac{6}{5}x + 10 \\ y \leq -\frac{1}{2}x + 7 \\ x \leq 6 \\ x, y \geq 0 \end{cases}$$

4. (1) **重新设置计算器**: 按下 **On** 打开 TI-83 计算器, 按下 **2nd**、**Mem**, 选择 7: Reset, 2: Defaults, 再按下 **Enter**, 重新设置计算器。

(2) **输入约束条件**: 按下 **Y=** 显示 Y= 编辑器, 依次输入 $y_1 = -\frac{6}{5}x + 10$ 和

$$y_2 = -\frac{1}{2}x + 7。$$

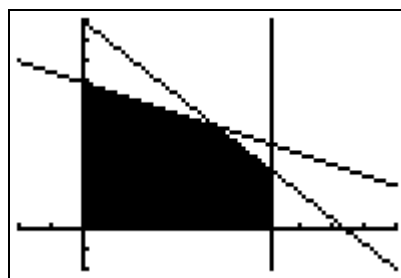
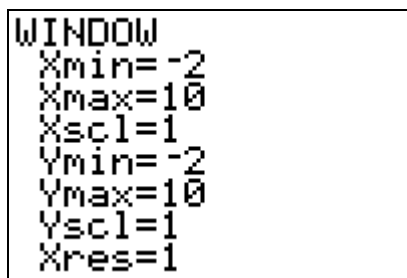


图 1

图 2

(3) **显示可行解区域**: 改变窗口 Window 设置 (见图 1), 按下 $\boxed{2nd}$ 、 \boxed{Quit} 返回主屏幕。然后按下 $\boxed{2nd}$ 、 \boxed{Draw} , 选择 4: Vertical, 输入 6, 再按下 \boxed{Enter} 。则计算器显示可行解区域 (见图 2)。

(4) **求出问题的解**: 返回主屏幕, 按下 6、 \rightarrow 、 X , 然后按下 \boxed{Vars} , 选择 Y-Vars、1: Function, 输入 1, 再按下 \boxed{Enter} , 得 $y_1 = 2.8$, 将顶点 (6, 2.8) 代入目标函数, 得目标函数的值为 4720 (见图 3)。在图形窗口中, 按下 $\boxed{2nd}$ 、 \boxed{Calc} , 选择 5: Intersect, 再按下 \boxed{Enter} 、 \boxed{Enter} , 输入 4, \boxed{Enter} , 窗口显示 $y_1 = -\frac{6}{5}x + 10$ 和 $y_2 = -\frac{1}{2}x + 7$ 的交点坐标为 (4.3, 4.9) (见图 4)。将顶点 (4.3, 4.9) 代入目标函数, 得目标函数的值为 4540。

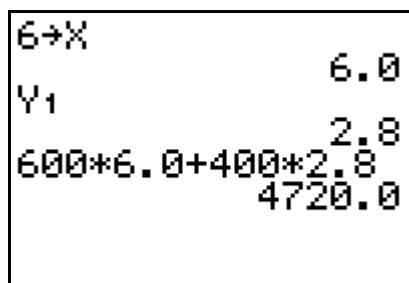


图 3

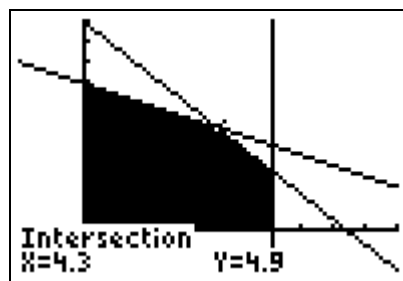


图 4

(5) **得出结论**: 每周应生产 600 件果汁杯, 280 件鸡尾酒杯, 经营者得到最大利润为 4720 元。

四. 拓展研究

(1) 每周生产时间增加 1 小时, 其它条件不变, 经营者的收益将会怎样变化?

(2) 每周生产时间再增加 1 小时, 其它条件不变, 经营者的收益将会怎样变化? 你认为这个收益可以称为什么?

(3) 是否增加工时就一定能使经营者的收益增多呢?

(4) 你能从理论上对问题(3)作出分析吗?

(5) 若你是经营者, 你还会从哪个方面提高经济效益?

五. 参考答案

(1) 每周生产时间增加1小时, 其它条件不变, 只需将约束条件 $6x + 5y \leq 50$ 改为 $6x + 5y \leq 51$, 用同样的方法得可行解区域的顶点坐标为 $(6, 3)$, 将 $(6, 3)$ 代入目标函数, 知经营者的收益为 4800 元, 增加 80 元。

(2) 每周生产时间再增加1小时, 其它条件不变, 经营者的收益仍将增加 80 元 这个收益可以称为工作时间的“影子价格”。

(3) 图 5 是工时增加了 2 小时、4 小时、6 小时、8 小时和 10 小时之后可行解区域的变化情况。可知工时增加超过 6 小时, 经营者的收益就不会增加。

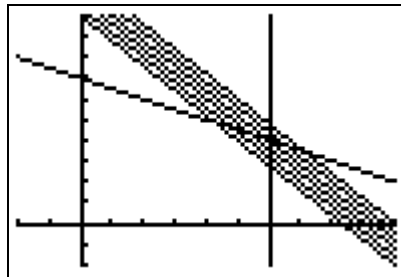


图 5

(4) 设生产工时增加 k 个小时, 由方程组 $\begin{cases} 6x + 5y = 50 + k \\ x = 6 \end{cases}$ 得 $\begin{cases} x = 6 \\ y = \frac{14 + k}{5} \end{cases}$,

$f = 3600 + 80(14 + k)$, 即经营者的收入增加了 $80k$ 元。但考虑直线方程

$6x + 5y = 50 + k$, 即 $y = -\frac{6}{5}x + \frac{50 + k}{5}$, 随着 k 的增加, 该直线在 y

轴上的截距将增加 $\frac{k}{5}$, 原约束条件将向右上方平移。但这个平移不能超过

直线 $10x + 20y = 140$ 和 $x = 6$ 的焦点, 否则增加工时将不会带来效益 (因为仓库里放不下了), 即 $k \leq 6$ 。

(5) 下列方案可供参考:

1. 增加储藏空间: 储藏量增加 1m^3 , 而其它条件不变, 是否有类似“影子价格”?

2. 增加产量: 增加效益较好的果汁杯的产量, 而其它条件不变, 经济效益会有什么变化?

3. 综合考虑各个生产要素: 以上方法只是考虑一个生产要素的变化对经济效益的影响。综合考虑工时、储藏空间和产量等多个生产要素, 可以进行多目标的规划设计。(有兴趣研究者可进一步参考《线性规划》的有关目标规划的理论和方法)